

SERTİFİKA
TÜRÜ

H

250820071100

3. GRUP

T.C.
MİLLÎ EĞİTİM BAKANLIĞI
EĞİTİM TEKNOLOJİLERİ GENEL MÜDÜRLÜĞÜ
Ölçme Değerlendirme ve
Açıköğretim Kurumları Daire Başkanlığı

KİTAPÇIK TÜRÜ

Z

MOTORLU TAŞIT SÜRÜCÜ ADAYLARI SINAVI TEST KİTAPÇIĞI

Adayın Adı ve Soyadı :
Aday Numarası :

- DİKKAT:**
1. Size verilen test kitapçığının sertifika türü, almak istediğiniz sertifika türüyle aynı değilse salon görevlilerini uyararak test kitapçığının doğru kitapçıkla değiştirilmesini sağlayınız.
 2. Test kitapçıklarını kontrol ederek, baskı hatası olan kitapçığın değiştirilmesi için salon sorumlularına başvurunuz.
 3. Test kitapçığındaki açıklamaları okuyunuz.
 4. Sınavda hesap makinesi, cep telefonu ve çağrı cihazı kullanılması yasaktır. Bu cihazları sınav başlamadan önce salon başkanına teslim ediniz.

CEVAP KÂĞIDI İLE İLGİLİ AÇIKLAMALAR

1. Cevap kâğıdınızda kodlanmış olarak verilen kitapçık türü ile size verilen kitapçık türünün aynı olmasına dikkat ediniz. Aynı değilse salon başkanını uyarınız.
2. Size verilen cevap kâğıdında yazılı olan bilgilerin size ait olup olmadığını kontrol ediniz.
3. Cevap kâğıdı üzerine yazacağınız yazı ve yapacağınız işaretlemelerde kurşun kalemde başka kalem kullanmayınız.
4. Cevap kâğıdında **İLK YARDIM BİLGİSİ, TRAFİK ve ÇEVRE BİLGİSİ, MOTOR ve ARAÇ TEKNİĞİ BİLGİSİ** testleri için üç ayrı bölüm bulunmaktadır. Cevaplarınızı cevap kâğıdındaki ilgili bölümlere aşağıdaki örnekte olduğu gibi yuvarlağı, dışına taşırmadan işaretleyiniz.
Yanlış karalamalarınızı düzeltirken yuvarlağın içini temizce siliniz.

ÖRNEK KODLAMA: ●

TEST KİTAPÇIĞI İLE İLGİLİ AÇIKLAMA

1. Bu test kitapçığında; **İLK YARDIM BİLGİSİ** dersinden 30, **TRAFİK ve ÇEVRE BİLGİSİ** dersinden 50 olmak üzere toplam 80 soru bulunmaktadır. Testin tümü için verilen cevaplama süresi 100 dakikadır.
2. Her sorunun dört seçeneğı vardır. Dört seçenektan sadece bir tanesi doğru cevaptır. Doğru bulduğunuz seçeneğı cevap kâğıdında o soru için ayrılan yerde bularak işaretleyiniz. Birden fazla işaretlemelerde o soru yanlış cevaplandırılmış sayılır.
3. Her ders kendi içerisinde 100 puan üzerinden değerlendirilecektir. Başarılı sayılabilmemiz için her dersten –ayrı ayrı- 70 puan almanız gerekir.
4. Size ayrı bir karalama kâğıdı verilmeyecektir. Test kitapçığının içindeki boş alanları karalama yapmak için kullanabilirsiniz.
5. Cevabını bilmediğiniz sorular üzerinde fazla zaman kaybetmeden diğer sorulara geçiniz. Zamanınız kalırsa bu sorulara daha sonra dönebilirsiniz.
6. Cevaplarınız puanlanırken her doğru cevaba puan verilecek, yanlış cevaplarınız dikkate alınmayacaktır.
7. Sınavın bitiminde cevap kâğıdınızı ve soru kitapçığınızı salon sorumlularına teslim etmeyi unutmayınız.

Arka sayfadaki açıklamalara geçiniz.

3. GRUP

İLK YARDIM BİLGİSİ

Z

1. Yeni meydana gelen büyük bir dış kanamada kırık yoksa, kanayan yere ilk önce yapılacak işlem aşağıdakilerden hangisidir?

- A) Basınç uygulamak
- B) Yara bandı yapıştırmak
- C) Kalpten aşağı seviyede tutmak
- D) Soğuk su ile yıkamak

2. Aşağıdakilerden hangisi kanamayı azaltmak için uygulanan yöntemdir?

- A) Kanayan yeri oksijenli su ile yıkamak
- B) Kanayan yere sıcak uygulama yapmak
- C) Kanayan yeri kalp seviyesinden yukarıda tutmak
- D) Kanayan bölgeyi yıkayarak pıhtıları temizlemek

3. Uzun kopması durumunda aşağıdaki uygulamalardan hangisi yapılmaz?

- A) Bilincini açık tutmaya çalışmak
- B) Kopan uzvu temiz bir bezle sararak sıcak tutmak
- C) Tıbbi birimleri haberdar etmek
- D) Kopan uzvu temiz ve su geçirmez torbaya koyduktan sonra soğuk tutmak

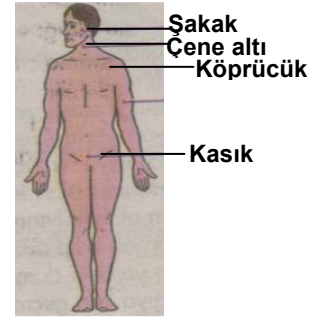
4. Aşağıdakilerden hangisi açık yaralarda yapılabilecek genel uygulamalardandır?

- A) Soğuk su içirmek
- B) Yaraya merhem sürmek
- C) Kanama varsa şoka karşı önlem almak
- D) Yaralı bölge altta kalacak şekilde yatırmak

5. Hangi durumdaki hastaya, göğüs kemiği 4 - 5 cm aşağıya inecek şekilde basınç uygulanır?

- A) Kalbi düzensiz çalışan
- B) Kalbi duran
- C) Solunumu düzensiz olan
- D) Solunumu duran

6. Kafa derisi ve şakak bölgesi kanamalarında şekilde belirtilen hangi kısma basınç uygulanmalıdır?



- A) Şakak
- B) Çene altı
- C) Kasık
- D) Köprücük

7. Kalp masajı yapılacak olan hasta hangi pozisyonda, nasıl zemine yatırılır?

- A) Yan yatış, sert zemine
- B) Yüz üstü, yumuşak zemine
- C) Sırt üstü, sert zemine
- D) Yarı oturur, yumuşak zemine

8. İlk yardım yapan kişi yaralının omuzlarına hafifçe dokunarak "iyi misiniz?" diye sorar.

Bu davranış ile yaralının hangi durumu kontrol edilir?

- A) Ağız içi
- B) Göğüs hareketi
- C) Solunumu
- D) Bilinci

9. Bacakta, turnike uygulama bölgesi neresidir?
- A) Diz ile kalça arasındır.
B) Diz ile ayak arasındır.
C) Diz kapağının olduğu bölgedir.
D) Ayak bileğinin alt kısmıdır.
10. İç kanaması olan ve şok durumdaki hastaya aşağıdakilerden hangisi yapılır?
- A) Üzeri açık olacak şekilde sırt üstü yatırılır.
B) Ağızdan ağza suni solunum yapılır.
C) Bilincinin açık kalması için çaba gösterilir.
D) Bolca ılık içecekler içirilir.
11. Kusturmada hastaya uygulanacak en etkili yöntem aşağıdakilerden hangisidir?
- A) Sirtına vurmak
B) Az tuzlu ayran içirmek
C) Karnına hafif basınç uygulamak
D) Parmakla dilinin arka kısmını uyarmak
12. Başından yaralanan yaralıya aşağıdakilerden hangisi uygulanır?
- A) Soluk yolu açık tutularak sevk edilir.
B) Kanama yoksa bir şey yapmaya gerek yoktur.
C) Yarası sarılarak uyutulur.
D) Yaralı bölgeye sıcak pansuman uygulanır.
13. Omurga yaralanmalarında yaralı sedyede nasıl sevk edilir?
- A) Oturtularak
B) Yan yatırılarak
C) Sırt üstü yatırılarak
D) Yüz üstü yatırılarak
14. Yaralı, sedye ile cankurtarana bindirilirken yönü nasıl olmalıdır?
- A) Ayakları önde olacak şekilde
B) Baş kısmı önde olacak şekilde
C) Yaralının isteğine göre
D) Yaranın çeşidine göre
15. Burkulmalarda ağrı ve şişliği azaltmak için aşağıdakilerden hangisi yapılmalıdır?
- A) Buz konulmalıdır.
B) Masaj yapılmalıdır.
C) Soğuk su içirilmelidir.
D) Turnike uygulanmalıdır.
16. Kimyasal madde yanıklarında yapılacak ilk yardım aşağıdakilerden hangisidir?
- A) Yara merhemi sürmek
B) Bol su ile yıkamak
C) Yakıcı maddeyi sulandırıp sürmek
D) Kuru sargı bezi ile kapatmak
17. Aşağıdakilerden hangisi trafik kazalarının önlenmesinde en önemli unsurdur?
- A) Yolları ve kaldırımları onarmak
B) Araçların bakım ve onarımını önemsemek
C) Yağmurlu ve sisli havalarda daha dikkatli olmak
D) Kuralları alışkanlık hâline getiren bireyler yetiştirmek

18. Baş yaralanması sebebiyle bayılan ve daha sonra da kendine gelen yaralıya aşağıdakilerden hangisi uygulanır?
- A) Normal faaliyetini sürdürmesine izin verilir.
B) Baş ı sıcak su ile yıkanır.
C) Bulantı önleyici ve ağrı kesici ilaç verilir.
D) En az 12 - 24 saat süre ile hekim kontrolünde tutulur.
19. Trafik kazaları en çok aşağıdakilerden hangisinin hatalarından kaynaklanır?
- A) Yayaların
B) Sürücülerin
C) Yolcuların
D) Trafik görevlilerinin
20. Göğüsteki açık yara, aşağıdakilerden hangisi ile kapatılır?
- A) Kuru pamukla
B) Oksijenli pamukla
C) Islak, temiz sargı beziyle
D) Alkollü bezle
21. Trafik kazalarında, aşağıdakilerden hangisi sürücüden kaynaklanan sebeptir?
- A) Uykusuz araç kullanmak
B) Havanın yağışlı olması
C) Araç yapımındaki hata
D) Yol yapımındaki hata
22. Aşağıdakilerden hangisi solunum sistemi organlarındanıdır?
- A) Mide
B) Beyin
C) Kalp
D) Akciğer
23. Bayılan hastaya soluk yolunun tıkanmaması için hangi pozisyon verilir?
- A) Yan yatış
B) Yüzükoyun yatış
C) Yarı oturuş
D) Sırt üstü yatış
24. Hangi araçlarda ilk yardım çantası bulundurmak zorunludur?
- A) Her çeşit araçta
B) Sadece büyük araçlarda
C) Sadece şehir dışına günü birlik yolcu taşıyan motorlu araçlarda
D) Motorlu bisiklet, motosiklet ve iş makinesi dışındaki motorlu araçlarda
25. Kaza yerine ulaşan kurtarıcının ilk olarak yapması gereken nedir?
- A) Yaralıları belirlemelidir.
B) Kazayı yetkililere haber vermelidir.
C) Kendinin ve yaralıların güvenliğini sağlamalıdır.
D) Yaralıları araçtan çıkarmalıdır.
26. Aşağıdakilerden hangisi bilinç kaybı olan bir hastanın solunum yolunu tıkayarak boğulmasına sebep olabilir?
- A) Çenenin kasılması
B) Dilin geriye kayması
C) Başın arkaya düşmesi
D) Vücudun kasılması

27. İlk yardımcı, kaza yapan aracın içerisinden yaralıları çıkarmadan önce, aşağıdakilerden hangisini mutlaka değerlendirmelidir?

- A) Yaralıların üzerinde bulunan giysilerin özelliklerini
- B) Aracın yanma veya devrilme tehlikesinin olup olmadığını
- C) Araç modelini
- D) Yaralıların cinsiyetlerini

28. Karın yaralanması olan yaralıya aşağıdakilerden hangisi uygulanmaz?

- A) Meyve suyu içirmek
- B) Yara yerini soğuk tutmak
- C) Yara yerine göre uygun pozisyon vermek
- D) Şoka karşı önlem almak

29. Bebeklerde soluk yoluna herhangi bir cismin kaçması hâlinde, ilk yardım olarak aşağıdakilerden hangisi uygulanmalıdır?

- A) Suni solunum yapılır.
- B) Sert bir yere sırt üstü yatırılır ve göğsünden bastırılır.
- C) Sırt üstü yatırılıp karnına bastırılır.
- D) Ağız kısmı aşağıda, yüz üstü tutulur ve sırtına hafifçe vurulur.

30. Yaralıyı araçtan çıkarırken aşağıdakilerden hangisine dikkat edilir?

- A) Kollarının gövdeye paralel durmasına
- B) Ayak tarafından çıkarılmasına
- C) Baş - boyun - gövde hizasının bozulmamasına
- D) Baş tarafından çıkarılmasına

İLK YARDIM BİLGİSİ TESTİ BİTTİ.
TRAFİK ve ÇEVRE BİLGİSİ TESTİNE GEÇİNİZ.

3. GRUP

TRAFİK ve ÇEVRE BİLGİSİ

Z

1. Bekleme amacıyla yapılan duraklanmanın süresi en çok kaç dakikadır?

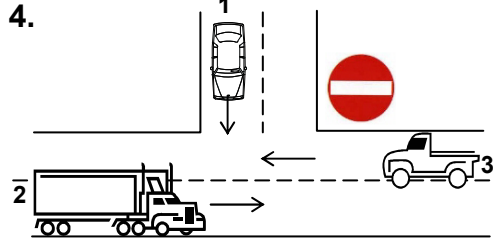
- A) 20
B) 15
C) 10
D) 5

2. Aksine bir işaret yoksa, eğimsiz iki yönlü dar yolda, otomobil ile otobüsün karşılaşması durumunda, hangisi diğerine yol vermelidir?

- A) Otobüs sürücüsü, otomobile
B) Otomobil sürücüsü, otobüse
C) Şeridi daralmış olan, diğerine
D) Azami ağırlığı az olan, diğerine

3. Yaralı veya acil hasta taşıyan özel araç sürücüleri, geçiş üstünlüğü hakkını nasıl kullanabilirler?

- A) Seyyar tepe lambası taktırarak
B) Eskort eşliğinde
C) Sesli ve ışıklı işaretler vererek
D) Aracında gözcü bulundurarak



Şekildeki kara yolu bölümünde aşağıdakilerden hangisinin yapılması doğrudur?

- A) 3 numaralı taşıtın sağa dönüş yapması
B) 1 numaralı taşıtın, 3 numaralı taşıt geçtikten sonra sağa dönüş yapması
C) 1 numaralı taşıtın 3 numaralı taşıtı durdurup, sola dönüş yapması
D) 2 numaralı taşıtın, 3 numaralı taşıt geçtikten sonra sola dönüş yapması

5. Karşıdan gelen araçla karşılaşıldığında uzağı gösteren ışıkların yerine hangisi yakılmalıdır?

- A) Yakını gösteren ışıklar
B) Park ışıkları
C) Acil uyarı ışıkları
D) Dönüş ışıkları

6. Arızalı aracın ışık donanımı bozuk ise aşağıdakilerden hangisi yapılmalıdır?

- A) Çeken araca gündüz kırmızı bez asılmalı
B) Çeken araca gece kırmızı yansıtıcı konulmalı
C) İki araç arasında gece kırmızı ışık gündüz kırmızı bez konulmalı
D) Çekilen aracın arkasına gündüz kırmızı bez, gece kırmızı yansıtıcı konulmalı

7. Aşağıdakilerden hangisi, yaya ve okul geçitlerine yaklaşan sürücünün uyacağı kurallardan değildir?

- A) İlk geçiş hakkını yayalara vermek
B) Aracın hızını azaltmak
C) Söz konusu geçitlerde durmak
D) Karşıdan gelen araçlara geçiş kolaylığı sağlamak

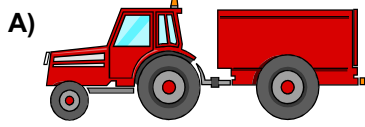
8. Okul taşıtlarının arkasındaki "DUR" işaretinin yanması neyi bildirir?

- A) Öğrencilerin indirilip bindirildiğini
B) Öğrencileri almak üzere beklemekte olduğunu
C) Taşıtın geri manevra yaptığını
D) Taşıtın okula yaklaşmış olduğunu

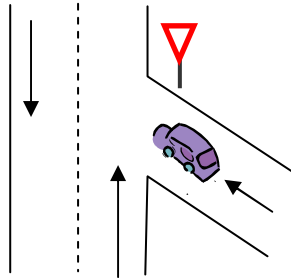
9. Hangisi sürücüler için trafik suçudur?
- A) Yaya ve okul geçitlerinde aracını yavaşlatmak
B) Gidişe ayrılan sağdaki şeritte seyretmek
C) Seyir hâlinde iken telefonla konuşmak
D) Öndeki aracı güvenli mesafeden izlemek
10. Araçlar yüklenirken aşağıdakilerden hangisinin yapılması yasaktır?
- A) Taşıma sınırına ve dingil ağırlığına uyulması
B) Gabarinin aşılması
C) Araç dengesinin korunması
D) Trafik güvenliğinin dikkate alınması
11. Aşağıdakilerden hangisi trafik suçudur?
- A) Tehlikeli madde taşıyan araçları geçmek
B) Taşıma sınırı altında yük taşımak
C) Gidiş yönüne göre yolun en sağından seyretmek
D) Aracın cinsine ve hızına uygun olmayan şeritten gitmek
12. Otoyollara girerken hangi şeridi kullanmak zorunludur?
- A) En sağ şeridi
B) Ortadaki şeridi
C) Hızlanma şeridini
D) Yavaşlama şeridini
13. İki yönlü kara yolunda karşıya geçecek yayanın aşağıdakilerden hangisini yapması yanlıştır?
- A) Yaya geçidini kullanması
B) Alt veya üst geçidi kullanması
C) Önce sağ sonra sol tarafını kontrol etmesi
D) En kısa doğrultuda ve en kısa zamanda geçmesi
14. Kollarında üç yuvarlaklı sarı bant bulunan ve beyaz baston taşıyan yayayı taşıt yolunda gören sürücü nasıl hareket etmelidir?
- A) Etkili şekilde korna çalmalıdır.
B) Durup, gerektiğinde yayaya yardımcı olmalıdır.
C) Yayayı korkutmadan yanından hızla geçmelidir.
D) Etkili fren yapıp, yayanın dikkatini çekmelidir.
15. Trafiğe çıkacak araçta aşağıdakilerin hangisinde verilenlerin bulundurulması zorunludur?
- A) Gümrük giriş belgesi ve tescil plakası
B) Araç işletme belgesi ve tescil plakası
C) İmalat belgesi ve araç tadilat belgesi
D) Tescil belgesi, trafik belgesi ve tescil plakası
16. Kamyon aşağıdaki sürücü belgelerinden hangisiyle kullanılabilir?
- A) A1
B) C
C) B
D) F
17. Hususi otomobillere 3 yaş sonunda kaç yılda bir muayene yaptırılması zorunludur?
- A) 1
B) 2
C) 3
D) 4

3. GRUP**TRAFİK ve ÇEVRE BİLGİSİ****Z**

26. Aşağıdaki taşıtlardan hangisinin azami yük ağırlığı 3,5 tondan fazla olup, yük taşımak amacıyla imal edilmiştir?



27. Şekildeki aracın bulunduğu yol aşağıdakilerden hangisidir?



A) Ana yol
C) Bağlantı yolu

B) Tali yol
D) Geçiş yolu

28. Kara yolunda insan, hayvan ve yük taşımaya yarayan araçlara ne denir?

A) İş makinesi
C) Taşıt

B) Trolleybüs
D) Çekici

29. Şekildeki trafik işareti neyi yasaklar?



A) Geri gitmeyi
B) "U" dönüşü yapmayı
C) Sola dönmeyi
D) Ada etrafında dönmeyi

30. Trafik görevlisinin hangi hareketi geceleyin "geç işareti" talimatıdır?



31. Şekildeki trafik işareti neyi ifade eder?



A) Kontrolsüz kavşağı
B) Dönel kavşak yaklaşımını
C) Demir yolu geçidini
D) Ana yol-tali yol kavşağını

3. GRUP

TRAFİK ve ÇEVRE BİLGİSİ

Z

32. Şekildeki trafik işaretinin anlamı nedir?



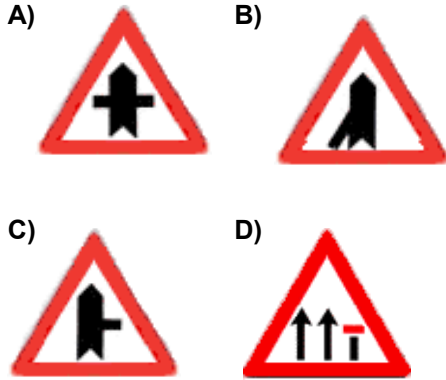
- A) Kontrollü demir yolu geçidi
- B) Otoyol başlangıcı
- C) Ana yol - tali yol kavşağı
- D) Geçme yasağı sonu

33. Şekildeki trafik işaretinin anlamı nedir?



- A) Sola mecburi yön
- B) Tünel yaklaşımı
- C) Dönel kavşak yaklaşımı
- D) Sola tehlikeli devamlı viraj

34. Aşağıdakilerden hangisi soldan ana yola girişi bildirir?



35. Konvoy hâlinde seyreden araçların arasındaki mesafe en az ne kadar olmalıdır?

- A) Takip mesafesi kadar
- B) Duruş mesafesi kadar
- C) Fren mesafesi kadar
- D) İntikal mesafesi kadar

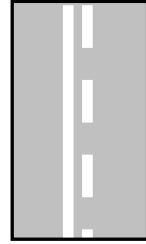
36. Aşağıdakilerden hangisi trafiğin düzenlenmesinde önceliğe sahiptir?

- A) Trafik ışıkları
- B) Trafik levhaları
- C) Yer işaretleri
- D) Trafik görevlisi

37. Yerleşim yerleri dışındaki yollarda, aksine bir işaret yoksa, minibüs, otobüs, kamyonet ve kamyonlar için azami hız saatte kaç kilometredir?


- A) 70
- B) 80
- C) 90
- D) 100

38. Şekildeki yol çizgileri aşağıdakilerden hangisini bildirmez?



- A) Kesik çizgi tarafındaki aracın önündeki aracı geçebileceğini
- B) Devamlı çizgi tarafındaki aracın kendi şeridinde seyretmesi gerektiğini
- C) Devamlı çizgi tarafındaki aracın tehlikeli yol bölümüne gireceğini
- D) Kesik çizgi tarafındaki yolun sadece ağır taşıtlarca kullanılacağını

39. Şekildeki trafik işareti neyi ifade eder?







- A) Yolun iki taraftan daraldığını
- B) Karşıdan gelene yol verme zorunluluğunu
- C) Yolun çift yönlü olduğunu
- D) Yolun tek yönlü olduğunu

3. GRUP

TRAFİK ve ÇEVRE BİLGİSİ

Z

40. Aşağıdakilerden hangisi azami hız sınırlaması anlamındadır?

- A)  B) 
- C)  D) 

41. Aşağıdakilerden hangileri gabari ile ilgilidir?



- I II III
- A) I - II B) I - III
C) II - III D) I - II - III

42. Ticari amaçla yük ve yolcu taşıyan sürücülerin 24 saat içindeki taşıt kullanma süreleri aşağıdakilerin hangisindeki gibi olur?

Sürekli taşıt kullanma süresi (saat)	Toplam taşıt kullanma süresi (saat)
A) 5	10
B) 4,5	9
C) 4,5	10
D) 4	9

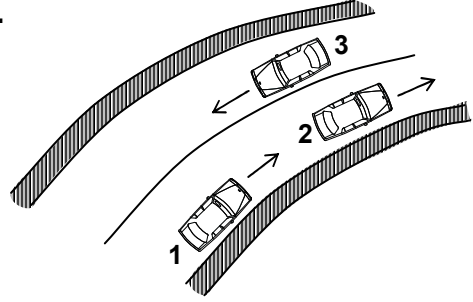
43. Aşağıdaki durumların hangisinde şerit değiştirmek yasaktır?

- A) Durma ve duraklamada
B) Geçme ve park etmede
C) Kavşağa gelindiğinde
D) Sağa ve sola dönmeye

44. Kavşaklarda aşağıdakilerden hangisinin yapılması doğrudur?

- A) Şerit değiştirilmesi
B) Yolcu indirilip bindirilmesi
C) Park edilmesi
D) Hızın azaltılması

45.

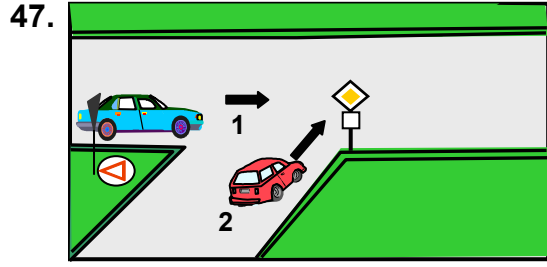


Şekle göre aşağıdakilerden hangisinin yapılması yasaktır?

- A) 1. aracın 2. araca takip mesafesince yaklaşması
B) 1. aracın 2. aracı geçmeye çalışması
C) 3. aracın dönemece girerken hızını azaltması
D) 2. aracın dönemece girerken hızını azaltması

46. Aşağıdakilerden hangisi araç geçme ile ilgili doğru bir davranıştır?

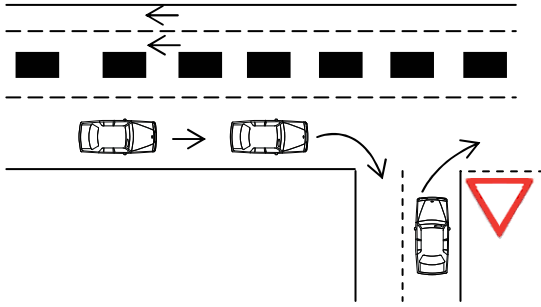
- A) Başka aracı geçmeye çalışan aracı geçmemek
B) Geçilen aracı kontrol etmeden sağ şeride girmek
C) Yol boş olduğunda dönüş ışıklarını kullanmamak
D) Tepe üstleri ve dönemeçlerde araç geçmek



Şekildeki 1 numaralı aracın sürücüsü ne yapmalıdır?

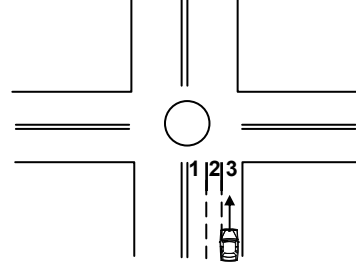
- A) Korna çalıp 2 numaralı aracı durdurmalıdır.
- B) Geçiş hakkını kendi kullanmalıdır.
- C) 2 numaralı araca yol vermelidir.
- D) Hızlanarak yoluna devam etmelidir.

48. Sağa dönüş yapmak isteyen şekildeki sürücülerin hangisini yapması yanlıştır?



- A) Buldukları şeritte en sağa yaklaşmaları
- B) Hızlarını azaltmaları
- C) Dar bir kavisle dönüş yapmaları
- D) Dönüşlerini en sol şeritte tamamlamaları

49. Şekle göre geriye dönüş yapmak isteyen aracın hangi şeridi izlemesi gerekir?



- A) 2 numaralı şeridi
- B) 1 numaralı şeridi
- C) 3 numaralı şeridi
- D) İsteddiği şeridi

50. Otomobillerin trafiğe çıkarılabilmesi için aşağıdakilerden hangisinin yaptırılması zorunludur?

- A) Koltuk Ferdî Kaza sigortasının
- B) Kasko sigortasının
- C) Aracın bakımının
- D) Zorunlu mali sorumluluk sigortasının

TEST BİTTİ.
CEVAPLARINIZI KONTROL EDİNİZ.

SINAV SIRASINDA UYULACAK KURALLAR

1. Sınavın başladığı andan itibaren, salon görevlilerinin tüm uyarılarına uymak zorundasınız.
2. Sınav başladıktan sonra görevlilerle konuşmanız ve soru sormanız yasaktır.
3. Sınav sırasında kopya çeken, çekmeye teşebbüs eden, kopya veren ya da kopya çekilmesine yardım eden adayların kimlikleri sınav tutanağına yazılacak ve sınavları geçersiz sayılacaktır. Ayrıca bu kişiler sınav salonundan çıkarılacaktır.
4. Görevliler, gerektiğinde oturduğunuz yerleri değiştirebilecektir.
5. Sınavda kurallara ve uyarılara uymayanların kimlikleri tutanakla tespit edilecek ve sınavları geçersiz sayılacaktır.
6. Sınav başladıktan sonra adayların birbirleriyle konuşmaları, kalem, silgi vb. şeyleri istemeleri yasaktır.
7. Sınav sırasında sigara, çay vb. içilmez.
8. Sınavın başladığı belirtilmeden test kitapçıkları açılmaz ve cevaplandırma yapılamaz.
9. Sınav sonrası test kitapçığını ve cevap kâğıdını mutlaka salon görevlilerine teslim ediniz. Test kitapçığını teslim etmeyen veya sayfalarından bir kısmını eksik teslim edenlerin sınavları geçersiz sayılacak, ayrıca haklarında yasal işlem yapılacaktır.

Soracağınız bir şey var mı? Varsa, şimdi sorunuz; sınav başladıktan sonra sorularınıza cevap verilmeyecektir. Hazır mısınız? Sınav, okulun bütün salonlarında aynı anda başlayacağı için başlama zilini beraberce bekleyelim. Hepinize başarılar dileriz.
(Salon başkanı başlama ve bitiş saatini tahtaya yazacaktır.)

Bu testin her hakkı saklıdır. Hangi amaçla olursa olsun, testlerin tamamının veya bir kısmının Millî Eğitim Bakanlığı Eğitim Teknolojileri Genel Müdürlüğü'nün yazılı izni olmadan kopya edilmesi, fotoğraflarının çekilmesi, bilgisayar ortamına alınması, herhangi bir yolla çoğaltılması, yayımlanması veya başka bir amaçla kullanılması yasaktır. Bu yasağa uymayanlar, doğabilecek cezai sorumluluğu ve testlerin hazırlanmasındaki mali külfeti peşinen kabullenmiş sayılır.

BAŞLAYINIZ DENİLMEYEN TEST KİTAPÇIĞINI AÇMAYINIZ.